

## فصل ۱۰ معادلات پارامتری و مختصات قطبی

### ۱.۱۰ معادلات پارامتری

حرکت مستقیم الخط ۱. حرکت یک ذره در امتداد یک منحنی، محدود شده یک یک خط مستقیم را حرکت مستقیم الخط می‌نامیم. در فیزیک، مثال داده می‌شود که حرکت یک تیرابه در صفحه  $xy$  مثلاً یک لوب کُتف به طرفی است که شتاب آن در جهت‌های  $x$  و  $y$  از قرائین

$$a_x = 0, \quad a_y = -g \quad (1)$$

تبعیت می‌کند که در آن  $g$  شتاب جاذبه و  $a_x = d^2x/dt^2$ ,  $a_y = d^2y/dt^2$  است. در  $t=0$  داریم  $x=0$  و  $y=0$  و مولفه‌های  $x$  و  $y$  سرعت اولیه  $v_0$  عبارتند از

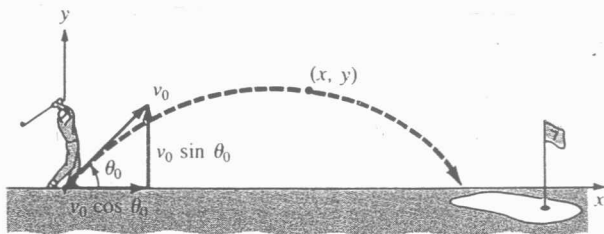
$$v_0 \cos \theta_0, \quad v_0 \sin \theta_0$$

شکل (۱) را ببینید. با در نظر گرفتن روابط اولیه در رابطه (۱) و از شرایط اولیه داده شده، نتیجه می‌شود که مختص  $x$  و مختص  $y$  لوب در زمان  $t$  در صفحه  $xy$  عبارتند از

$$x = (v_0 \cos \theta_0) t, \quad y = -\frac{1}{2} g t^2 + (v_0 \sin \theta_0) t \quad (2)$$

این معادلات، موقعیت لوب در صفحه  $xy$  در زمان  $t$  را مشخص می‌کنند. اگر بنا بر معادلات پارامتریک حرکت پرنای تغییر  $t$  را پارامتر و فاصله  $0 \leq t \leq T$  محدود پارامتری که در آن  $T$  زمان طی شده تا رسیدن لوب به زمین است.

در حالت طی، یک منحنی را می‌توان بر حسب معادلات پارامتری تعریف کرد.



شکل ۱

تعریف ۲. منحنی سطح. یک منحنی سطح مجموعه  $C$  از زوج‌های مرتب  $(f(t), g(t))$  است که در آن  $f$  و  $g$  توابعی پیوسته روی فاصله  $I$  هستند، معادلات  $x = f(t)$  و  $y = g(t)$  برای  $t$  در  $I$  را معادلات پارامتری  $C$  نامیم. متغیر  $t$  را پارامتر گوئیم.

متودار یک منحنی سطح  $C$  مجموعه تمام نقاط  $(x, y)$  در صفحه دکارتی متناظر است به زوج‌های مرتب  $(f(t), g(t))$  است. از این قسمت به بعد یک منحنی سطح را به عنوان یک منحنی در نظر می‌گیریم. علاوه بر آن برای سادگی تمامی منحنی‌ها متودار منحنی قابل نامی شویم.

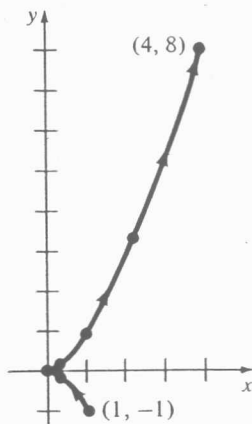
مثال ۱. متودار منحنی با معادلات پارامتری

$$x = t^2, \quad y = t^3, \quad -1 \leq t \leq 2$$

رسم کنید.

حل. همان گونه که در جدول زیر نشان داده شده است، برای هر انتخاب  $t$  در  $[-1, 2]$  یک زوج مرتب  $(x, y)$  به دست می‌آوریم. با وصل نمودن این نقاط به وسیله یک منحنی متودار در شکل (۲) حاصل می‌شود.

$t$	-1	$-\frac{1}{2}$	0	$\frac{1}{2}$	1	$\frac{3}{2}$	2
$x$	1	$\frac{1}{4}$	0	$\frac{1}{4}$	1	$\frac{9}{4}$	4
$y$	-1	$-\frac{1}{8}$	0	$\frac{1}{8}$	1	$\frac{27}{8}$	8



شکل ۲

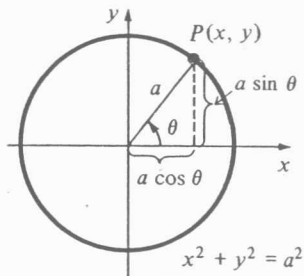
در مثال (۱)، اگر معادلات داده شده، حرکت یک ذره در صفحه و  $t$  زمان باشد، آن گاه وقتی  $t$  از  $-1$  تا  $2$  محدود می‌گردد، ذره در نقطه  $P$  از  $(-1, 1)$  شروع به حرکت به سمت پایین و سپس روی  $C$  خدای به طرف بالا می‌گردد و نهایتاً در  $(4, 8)$  متوقف می‌شود، اما چون زمان معنی نداریم با فرض  $3 \leq t \leq 0$  موقعیت مکانی متحرک را می‌توان با تابعی از دو ضابطه نوشت (تمرین). بنابراین سیری برای حرکت روی منحنی مشخص می‌شود که آن را جهت نامیم.

یک پارامتر لزوماً زمان نیست. وقتی فاصله  $|I|$  مشخص نشده است، معمولاً مجرب‌تر پارامتر  $-\infty < t < \infty$  در نظر می‌گیریم، یا بزرگترین فاصله‌ای را احتیاطاً می‌کنیم که تابع  $f$  روی آن معیوسه اند.

مثال ۲. دایره  $x^2 + y^2 = a^2$  با مرکز مبدأ و شعاع  $a$  را می‌توان بر حسب زاویه مرکزی  $\theta$  پارامتری کرد. با استفاده از شکل (۲) و خواص مثلثات، داریم

$$x = a \cos \theta, \quad y = a \sin \theta, \quad 0 \leq \theta \leq 2\pi \quad (۲)$$

که نقاط روی دایره  $P$  را مشخص می‌کنند.



توجه کنید که جهت روی دایره در مثال (۲) خلاف جهت عقربه‌های ساعت است.

مثال ۳. در مثال (۲)، نیم دایره  $x^2 + y^2 = a^2$ ،  $0 \leq y \leq a$  توسط

$$x = a \cos \theta, \quad y = a \sin \theta \quad 0 \leq \theta \leq \pi$$

پارامتری می‌شود.

برای یک مجموعه معادلات پارامتری، گاهی اوقات سعی در حذف پارامترین معادلات و به دست آوردن معادله دکارتی داریم. برای حذف پارامتر در (۳)  $x$  و  $y$  را سریع کرده و با هم جمع می‌کنیم

$$x^2 + y^2 = a^2 \cos^2 \theta + a^2 \sin^2 \theta$$

$$\therefore x^2 + y^2 = a^2 \quad 2$$

سؤال ۴. الف) از معادله (۲) داریم  $t = \frac{x}{v_0 \cos \theta_0}$  با قرار دادن این  $t$  در

معادله دوم داریم

$y = -\frac{g}{2(v_0 \cos \theta_0)} x^2 + (\tan \theta_0) x$   
 بنابراین برای هر زمان از پرتاب با زاویه اولیه  $0 < \theta_0 < \frac{\pi}{2}$  لزوماً به صورت یک سهمی است.

ب) در مثال (۱)  $x$  می‌تواند پارامتر را با حل معادله دوم برای  $t$  بر حسب  $y$  و جایگزینی

در معادله اول حذف نمود.

$$t = y^{1/3} \Rightarrow x = (y^{1/3})^2 = y^{2/3}$$

اما برای  $-1 \leq t \leq 2$  داریم  $-1 \leq y \leq 8$ ، بنابراین معادله دکارتی معنی‌دار است

$$x = y^{2/3} \quad -1 \leq y \leq 8$$

داره می‌شود.

یک منحنی  $C$  می‌تواند را از این مشتق از یک فنم پارامتری شده باشد. برای مثال

$y = 2t^2, x = t$  برای  $-\infty < t < \infty$  و  $x = \frac{t^3}{4}, y = \frac{t^6}{8}$  برای  $-\infty < t < \infty$  هر دو نشان دهنده  $y = 2x^2$  هستند. باید وقت کرد که یک نقطه لزوماً به یک مقدار پارامتر

در هر مجموعه نشان نمی‌دهد. برای مثال نقطه  $(1, 2)$  از  $t = 1$  در مجموعه اول و از  $t = \sqrt[3]{4}$

در مجموعه دوم است. اما اصولاً یکی از فرم‌های پارامتری شده را در نظر می‌گیریم.

مثال ۵. معنی C داده شده توسط معادلات پارامتری

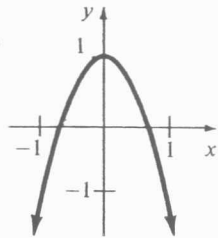
$$x = \sin \theta, \quad y = \cos 2\theta \quad 0 \leq \theta \leq \frac{\pi}{2}$$

رادر نظر بگیرید. پارامتر را حذف کرده و یک معادله دکارتی به دست آورید که دارای همان نمودار C باشد.

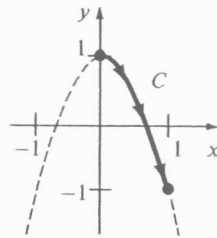
حل. با استفاده از فرمول دو برابر زاویه داریم

$$\begin{aligned} y &= \cos^2 \theta - \sin^2 \theta \\ &= (1 - \sin^2 \theta) - \sin^2 \theta \\ &= 1 - 2 \sin^2 \theta \\ &= 1 - 2x^2 \end{aligned}$$

حال معنی C شرح داده شده توسط معادلات پارامتری شامل همه معادله به دست آمده  $y = 1 - 2x^2$  نیست؛ شکل (۴). برای  $0 \leq \theta \leq \frac{\pi}{2}$  داریم  $1 \geq \sin \theta \geq 0$  و  $1 \geq \cos 2\theta \geq -1$ . یعنی C تنها قسمتی از سهمی است که مختصات یک نقطه روی آن به صورت  $P(x, y)$  در شرایط  $1 \geq x \geq 0$  و  $1 \geq y \geq -1$  صدق می کند. بنابراین C که در شکل (۴-ب) نشان داده شده دارای معادله  $1 - 2x^2$ ،  $0 \leq x \leq 1$  است.



الف)  $y = 1 - 2x^2$



ب)  $x = \sin \theta, y = \cos 2\theta, 0 \leq \theta \leq \pi$

شکل ۴

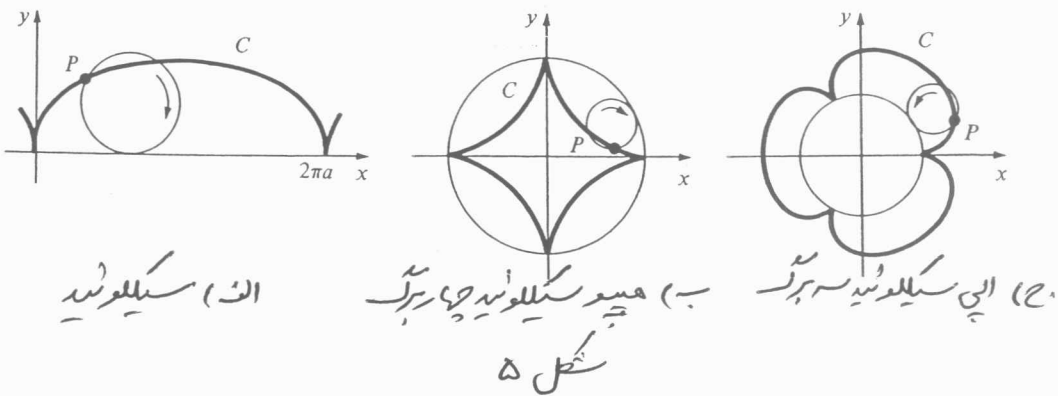
می توان تا سطح معنی C را با محورهای بیرون یا متن معادله دکارتی آن، به دست آورد.

برای مثال، در مثال (۵) برخورد x از حل  $y = 0$  حاصل می شود. معادله

$$\cos 2\theta = 0 \quad \text{نتیجه می دهد} \quad 2\theta = \frac{\pi}{2} \quad \vee \quad 2\theta = \frac{3\pi}{2} \quad \text{نقطه مساطر روی C محور xها}$$

را در  $(\frac{1}{\sqrt{2}}, 0)$  قطع می کند. به طور مشابه برخورد y معنی C با حل  $x = 0$  حاصل می شود.

منحنی‌های سیکلوئید<sup>۳</sup>. منحنی‌های سیکلوئید یکی از سباحت‌های معروف و ساده است. فرض کنید نقطه  $P(x, y)$  روی یک دایره به شعاع  $a$ ، وقتی قطر دایره در امتداد محور  $x$  ها شروع به چرخش می‌کند، نقطه  $P$  یک منحنی  $C$  رسم می‌کند که آن را سیکلوئید<sup>۳</sup> نامیم. شکل (۵-الف) را ببینید. حال فرض کنید یک دایره به شعاع  $a$  داخل دایره بزرگتری به شعاع  $b$  چرخش کند. اگر نقطه  $P(x, y)$  روی دایره داخلی از نقطه  $(b, 0)$  شروع شود منحنی  $C$  رسم شده توسط  $P$  را هیپوسیکلوئید<sup>۳</sup> نامیم. بلاخص اگر  $b = 4a$  باشد آن‌گاه  $C$  یک هیپوسیکلوئید چهارپرک نامیده می‌شود. این منحنی در شکل (۵-ب) نمایش داده شده است. نهایتاً اگر دایره‌ای به شعاع  $a$  روی خارج دایره‌ای به شعاع  $b$  چرخش کند و از نقطه  $(b, 0)$  شروع کرده باشیم، منحنی  $C$  حاصل را اپوسیکلوئید<sup>۳</sup> نامیده می‌شود. یک اپوسیکلوئید سه پرک در شکل (۵-ج) با  $b = 3a$  نمایش داده شده است. به عنوان تمرین عبارات پارامتری این سه منحنی نمایش داده شده در شکل (۵) را پرک کنید.



منحنی‌های هموار<sup>۴</sup>. منحنی  $C$  با عبارات پارامتری  $x = f(t)$  و  $y = g(t)$  برای  $a \leq t \leq b$  را هموار<sup>۳</sup> نامیم هرگاه  $f'$  و  $g'$  روی  $[a, b]$  پیوسته بوده و با هم روی  $(a, b)$  صفر نباشند. منحنی  $C$  را هموار<sup>۳</sup> می‌گوییم هرگاه فاصله  $[a, b]$  را بتوان به تعداد متناهی زیرفاصله انفرادی کرد به طوری که  $C$  روی هر زیرفاصله هموار باشد. منحنی‌های مثال‌های (۲) و (۳) و (۵) هموارند. منحنی در مثال (۱) هموار<sup>۳</sup> نمی‌باشد.

تصوره ۵ - یک منحنی  $C$  سرع داده شده توسط تابع پیوسته  $y = f(x)$  را همینه  
 می توان با فرض  $x = t$  پارامتری کرد، یک مجموعه معادلات پارامتری برای  $C$  در این  
 حالت به صورت  $x = t$ ،  $y = f(t)$  است.

### ۲.۱۱ شیب خطوط مماس و طول قوس

همانند نمودارهای تابع به صورت  $y = f(x)$ ، اغلب اطلاعات مفیدی در مورد  
 منحنی  $C$  حول به داده توسط معادلات پارامتری با در نظر گرفتن  $\frac{dy}{dx}$  به دست می آید.

شیب ۶. فرض کنید  $x = f(t)$ ،  $y = g(t)$  معادلات پارامتری منحنی  $C$   
 باشند. شیب خط مماس در نقطه  $P(x, y)$  روی  $C$  توسط  $\frac{dy}{dx}$  داده می شود.  
 برای محاسبه این مشتق، به صورت زیر عمل می کنیم

$$\Delta x = f(t + \Delta t) - f(t), \quad \Delta y = g(t + \Delta t) - g(t)$$

$$\frac{\Delta y}{\Delta x} = \frac{\frac{\Delta y}{\Delta t}}{\frac{\Delta x}{\Delta t}}$$

$$\lim_{\Delta x \rightarrow 0} \frac{\Delta y}{\Delta x} = \frac{\lim_{\Delta t \rightarrow 0} \frac{\Delta y}{\Delta t}}{\lim_{\Delta t \rightarrow 0} \frac{\Delta x}{\Delta t}}$$

مشروط به اینکه حد در مجموع عبارت صفر نباشد، نتیجه را به صورت زیر خلاصه می کنیم.  
 اگر  $x = f(t)$ ،  $y = g(t)$  یک منحنی هموار  $C$  را تعریف کنند، آن گاه شیب

خط مماس در نقطه  $P(x, y)$  روی  $C$  به صورت

$$\frac{dy}{dx} = \frac{\frac{dy}{dt}}{\frac{dx}{dt}} = \frac{g'(t)}{f'(t)} \quad (۴)$$

تعریف می شود مشروط به اینکه

$$f'(t) \neq 0$$

مثال ۶. معادله خط مماس به منحنی  $x = \frac{1}{t^2+1}$ ،  $y = t^3$  در نقطه ششام  
به  $t = -1$  را به دست آورید.

حل. شیب خط مماس را به دست می آوریم. چون

$$\frac{dy}{dt} = 3t^2$$

$$\frac{dx}{dt} = -\frac{2t}{(t^2+1)^2}$$

لذا داریم

$$\frac{dy}{dx} = \frac{dy/dt}{dx/dt} = \frac{3t^2}{-2t/(t^2+1)^2} = -\frac{3}{2}t(t^2+1)^2$$

و در  $t = -1$

$$\left. \frac{dy}{dx} \right|_{t=-1} = -\frac{3}{2}(-1)(2)^2 = 6$$

با جایگزینی  $t = -1$  در معادلات پارامتری منحنی، نقطه مماس  $(-\frac{1}{2}, -1)$  به دست می آید.  
بنابراین معادله خط مماس عبارت است از

$$y - (-1) = 6(x - \frac{1}{2})$$

$$y = 6x - 4.$$

مماس های افقی و قائم ۷. در نقطه  $(x, y)$  روی منحنی  $C$  با شیب  $\frac{dy}{dx} \neq 0$  و  $\frac{dx}{dt} \neq 0$  خط مماس لزوماً افقی است زیرا در این نقطه  $\frac{dy}{dx} = 0$  است. از طرف دیگر در نقطه ای که  $\frac{dx}{dt} = 0$  و  $\frac{dy}{dt} \neq 0$  خط مماس قائم است. وقتی هر دو  $\frac{dx}{dt}$  و  $\frac{dy}{dt}$  در نقطه ای صفر باشند هیچ نتیجه تری در مورد خط مماس نداریم.

مثال ۷. معادله منحنی با معادلات پارامتری

$$x = t^2 - 4, \quad y = t^3 - 3t$$

را رسم کنید.



حل . برحسب  $x$  :  $y=0 \Rightarrow t(t^2-3)=0$

$$\Rightarrow t=0, t=-\sqrt{3}, t=\sqrt{3}$$

برحسب  $y$  :  $x=0 \Rightarrow t^2-4=0 \Rightarrow t=-2, t=2$   
 مماس های افقی!

توجه کنید که در  $t=\pm 1$  ،  $\frac{dx}{dt} \neq 0$  ،  
 مماس های قائم :

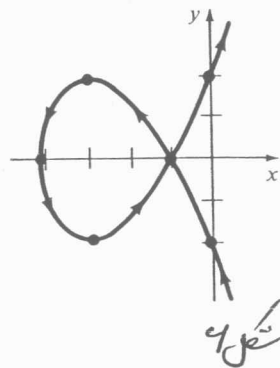
$$\frac{dx}{dt} = 2t, \frac{dx}{dt} = 0 \Rightarrow t=0$$

توجه کنید که در  $t=0$  ،  $\frac{dy}{dt} \neq 0$

نقاط  $(x, y)$  روی منحنی مشاظر به مقادیر  $t$  را مرتباً در ابتدا ، در جدول زیر خلاصه کرده اند.

$t$	-2	$-\sqrt{3}$	-1	0	1	$\sqrt{3}$	2
$x$	0	-1	-3	-4	-3	-1	0
$y$	-2	0	2	0	-2	0	2
	تقاطع با $y$	تقاطع با $x$	بسیار افقی	بسیار قائم تقاطع با $x$	بسیار افقی	تقاطع با $x$	تقاطع با $y$

منحنی بالا را رسم کرده است . به جهت روی منحنی و مماس ها وقت کنید ، شکل (۴) .



موردار یک تابع مستقیم پذیر  $y = f(x)$ ، می تواند تنها یک خط مماس در نقطه ای روی منحنی داشته باشد، چون یک منحنی تعریف شده توسط معادلات پارامتری ممکن است موردار یک تابع نباشد، پس امکان دارد که چنین منحنی را ای مشتق از یک مماس در یک نقطه باشد. در مثال (۷) برای  $t = -\sqrt{3}$  و  $t = \sqrt{3}$  داریم  $(-1, 0)$  یعنی منحنی عبورش را در این نقطه قطع می کند، حال چون

$$\left. \frac{dy}{dx} \right|_{t=\sqrt{3}} = \sqrt{3}, \quad \left. \frac{dy}{dx} \right|_{t=-\sqrt{3}} = -\sqrt{3}$$

پس در نقطه  $(-1, 0)$  دو خط مماس وجود دارد. این مطلب در شکل (۶) مشاهده می شود.

مشتقات مرتب بالاتر ۸. مشتقات مرتب بالاتر را می توان دقیقاً به

روش یافتن  $\frac{dy}{dx}$  یافت. فرض کنید (۲) به صورت

$$(۵) \quad \frac{d}{dx} ( ) = \frac{d( )/dt}{dx/dt}$$

نویسه مورد اثر  $y' = \frac{dy}{dx}$  تابعی مستقیم پذیر از  $t$  باشد، از (۵) با جایگزینی  $( )$  با  $y'$  داریم

$$\frac{d^2 y}{dx^2} = \frac{d}{dx} y' = \frac{\frac{dy'}{dt}}{\frac{dx}{dt}}$$

به طور مشابه اثر  $y'' = \frac{d^2 y}{dx^2}$  تابعی مستقیم پذیر از  $t$  باشد آن گاه مستقیم

ساز عبارت است از

$$\frac{d^3 y}{dx^3} = \frac{d}{dx} y'' = \frac{\frac{dy''}{dt}}{\frac{dx}{dt}}$$

و به همین ترتیب.

مثال ۸. بگردانید.  $\frac{d^3 y}{dx^3}$  مرتبه  $x = 4t + 6$ ،  $y = t^2 + t - 2$ .

$$\frac{dy}{dx} = \frac{dy/dt}{dx/dt} = \frac{2t+1}{4}$$

حل.

$$\frac{d^2 y}{dx^2} = \frac{dy'/dt}{dx/dt} = \frac{\frac{2}{4}}{4} = \frac{1}{8}$$

$$\frac{d^3 y}{dx^3} = \frac{dy''/dt}{\frac{dx}{dt}} = \frac{0}{4} = 0$$

مثال (۸) نشان می‌دهد که منحنی راری یک مماس افقی در  $t = -\frac{1}{2}$  یا در  $(4, -\frac{9}{4})$  است. علاوه بر آن چون  $\frac{d^2 y}{dx^2} > 0$  برای  $t > -\frac{1}{2}$  پس نمودار منحنی در هر نقطه راری خود به سمت بالا است.

طول یک منحنی ۹. در بخش (۱) از فصل (۵) طول  $s$  نموداریک تابع هموار  $y = f(x)$  توسط یک اشتراک یعنی به دست آید. حال شیخ در فرمول (۱) بخش (۱) را به منحنی‌های تعریف شده به صورت پارامتری توسعه می‌دهیم.

فرض کنید  $x = f(t)$  و  $y = g(t)$  برای  $a \leq t \leq b$  معادلات پارامتری یک منحنی هموار  $C$  است که خود را در  $a < t < b$  قطع نمی‌کند. اگر  $P$  افزایش از  $[a, b]$  به صورت

$$a = t_0 < t_1 < t_2 < \dots < t_{n-1} < t_n = b$$

باشد، آن‌گاه همان‌گونه که در شکل (۷) دیده می‌شود، مشاطه به این افزایش منحنی

$C$  را می‌توان توسط یک سیر چندبرگه از نقاط  $Q_k(f(t_k), g(t_k))$  برای تعادیر

$n$ ،  $k=1, \dots, n$  تقریب زد. طول یاره خط از  $Q_{k-1}$  تا  $Q_k$  را  $Q_{k-1} Q_k$  نشان ده

و تقریباً برابر است با طول قوس منحنی  $C$  روی این فاصله، و برابر طول قوس تقریبی  $C$

$$\sum_{k=1}^n |Q_{k-1} Q_k| \quad \text{است، یعنی تقریباً برابر است با} \quad (۹)$$

که بدان

$$|Q_{k-1} Q_k| = \sqrt{[f(t_k) - f(t_{k-1})]^2 + [g(t_k) - g(t_{k-1})]^2}$$

حال چون  $f$  و  $g$  راری مشتقات پیوسته اند، پس طبق قضیه مقدار میانگین،

اعداد  $u_k^*$  و  $v_k^*$  در  $(t_{k-1}, t_k)$  وجود دارند به طوری که

$$\begin{aligned} f(t_k) - f(t_{k-1}) &= f'(u_k^*)(t_k - t_{k-1}) \\ &= f'(u_k^*) \Delta t_k \end{aligned} \quad (7)$$

$$\begin{aligned} g(t_k) - g(t_{k-1}) &= g'(v_k^*)(t_k - t_{k-1}) \\ &= g'(v_k^*) \Delta t_k \end{aligned} \quad (8)$$

با جایگزینی (7) و (8) در (9) و ساده کردن عبارات داریم

$$\sum_{k=1}^n |Q_{k-1} Q_k| = \sum_{k=1}^n \sqrt{[f'(u_k^*)]^2 + [g'(v_k^*)]^2} \Delta t_k \quad (9)$$

با فرض  $\epsilon \rightarrow \|P\|$  در رابطه (9)، فرمول طول قوس برای یک منحنی همواره به صورت زیر حاصل می شود.

$$s = \int_a^b \sqrt{[f'(t)]^2 + [g'(t)]^2} dt = \int_a^b \sqrt{\left(\frac{dx}{dt}\right)^2 + \left(\frac{dy}{dt}\right)^2} dt \quad (10)$$

باید توجه کرد که حد مجموع در (9) برابر تعریف اصول اشتراک معین است زیرا در عدد  $(u_k^*)$

و  $(v_k^*)$  در  $(t_{k-1}, t_k)$  داریم. در هر صورت، می توان نشان داد که (10) از (9) با  $\epsilon \rightarrow \|P\|$  به دست می آید و این مطلب از قضیه کائوالری حاصل می شود.

مثال 9. طول منحنی پارامتری  $x = 4t$ ،  $y = t^2$  برای  $0 \leq t \leq 2$  را به دست آورید.

حل. چون  $f(t) = 4$ ،  $g'(t) = 2t$ ، پس از رابطه (10) داریم

$$s = \int_0^2 \sqrt{16 + 4t^2} dt = 2 \int_0^2 \sqrt{4 + t^2} dt$$

حال با جایگزینی مثلثاتی  $t = 2 \tan \theta$  اشتراک به صورت

$$s = 8 \int_0^{\pi/4} \sec^3 \theta d\theta$$

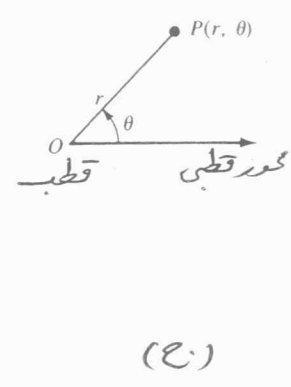
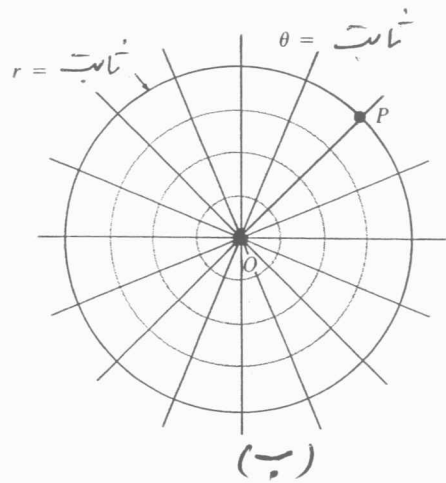
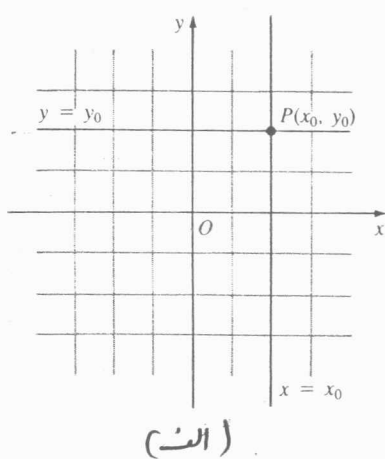
تبدیل می شود. از اشتراک گیری طرف درجه یک داریم

$$s = [4 \sec \theta \tan \theta + 4 \ln |\sec \theta + \tan \theta|]_0^{\pi/4}$$

$$= 4\sqrt{2} + 4 \ln(\sqrt{2} + 1) \approx 9.1823$$

### ۳.۱۵ دستگاه مختصات قطبی

تاکنون با استفاده از دستگاه مختصات دکارتی، مکان نقطه  $P$  در صفحه را مشخص می‌کردیم. این دستگاه شامل دو محور، افقی و عمودی است. مختصات نقطه  $P$  با فصل مشترک دو خط، یکی عمود بر محور افقی و یکی عمود بر محور قائم، بدست می‌آید. نوع دیگری از دستگاه مختصات، دستگاه مختصات قطبی است. یک نقطه  $P$  در صفحه را می‌توان با فصل مشترک یک دایره و یک شعاع در نظر گرفت. شعاع سررشته از نقطه  $O$  بیام قطب که مرکز دایره نیز می‌باشد رسم می‌شود. این شعاع را محور قطبی می‌نامیم. با مشخص کردن فاصله  $r$  از  $O$  و زاویه  $\theta$  که بر حسب رادیان نسبت به محور اولیه واقع بر محور افقی اندازه‌گیری می‌شود، می‌توان نقطه  $P$  را تعیین کرد. در این حالت  $P$  با زوج مرتب  $(r, \theta)$  نمایش داده می‌شود. در شکل (۷) مختصات نقطه  $P$  در صفحه دکارتی و صفحه قطبی نمایش داده شده است.



شکل ۷

در مختصات قطبی تدوینات زیر را می‌پذیریم.

(الف) زاویه‌های  $\theta < 0$  در خلاف حرکت عقربه‌های ساعت نسبت به محور قطبی اندازه‌گیری می‌شوند در حالی که زاویه‌های  $\theta > 0$  در امتداد حرکت عقربه‌های ساعت اندازه‌گیری می‌شوند.

(ب) برای رسم نقطه  $(-r, \theta)$  ،  $-r < 0$  ، اندازه  $|r|$  واحد را در امتداد شعاع  $\theta + \pi$

در نظری کنیم.

ج) مختصات قطب 0 به صورت  $(0, 0)$  است که در آن  $\theta$  زاویه دلخواهی است.

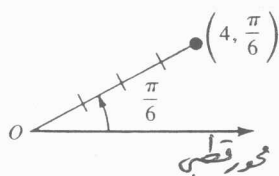
شال ۱۰. نقاط داده شده در زیر به مختصات قطبی را رسم کنید.

الف)  $(4, \frac{\pi}{6})$       ب)  $(2, -\frac{\pi}{4})$       ج)  $(-3, \frac{3\pi}{4})$

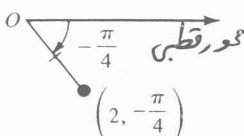
حل. الف) 4 واحد در امتداد شعاع  $\frac{\pi}{6}$  را مشخص می‌کنیم. شکل (الف-۸)

ب) 2 واحد در امتداد  $-\frac{\pi}{4}$  را مشخص می‌کنیم. شکل (ب-۸)

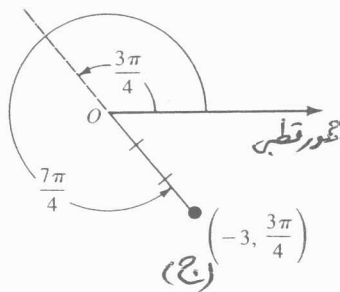
ج) 3 واحد در امتداد شعاع  $\frac{3\pi}{4} + \pi = \frac{7\pi}{4}$  را مشخص می‌کنیم. شکل (ج-۸)



(الف)



(ب)



(ج)

شکل ۸

بر خلاف دستگاه مختصات دکارتی، توصیف یک نقطه در مختصات قطبی موضعی فرد

نیست. در واقع تمام زوج‌های  $(r, \theta)$  و  $(r, \theta + 2n\pi)$  برای  $n \in \mathbb{Z}$  معادلند. برای راحتی کار

معماری منفی  $r$  را می‌توان مدرا شماره قرار داد.

شال ۱۱. زوج‌های زیر همتای نائینده هستند  $(2, \frac{\pi}{6})$  هستند.

$(2, \frac{13\pi}{6})$  ،  $(2, -\frac{11\pi}{6})$  ،  $(-2, \frac{7\pi}{6})$  ،  $(-2, -\frac{5\pi}{6})$

تبدیل مختصات دکارتی به قطبی در بخش ۱۰. یا منطبق کردن دستگاه مختصات دکارتی روی یک

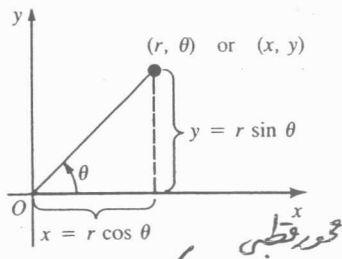
دستگاه مختصات قطبی، شکل (۹) ، توصیف قطبی یک نقطه را می‌توان با توصیف دکارتی نقطه

با توجه به روابط زیر به یکدیگر تبدیل نمود.

تبدیل قطبی به دکارتی

$$x = r \cos \theta, \quad y = r \sin \theta \quad (11)$$

این مقادیر برای دادن برای هر مقدار  $r$  در نظر گرفت.



شکل ۹

مثال ۱۲. مختصات قطبی  $(2, \frac{\pi}{6})$  را به مختصات دکارتی نقطه تبدیل کنید.

حل. با  $r=2$ ،  $\theta = \frac{\pi}{6}$  از روابط (۱۱) داریم

$$x = 2 \cos \frac{\pi}{6} = 2 \left( \frac{\sqrt{3}}{2} \right) = \sqrt{3}$$

$$y = 2 \sin \frac{\pi}{6} = 2 \left( \frac{1}{2} \right) = 1$$

پس برای  $(2, \frac{\pi}{6})$  معادل  $(\sqrt{3}, 1)$  در مختصات دکارتی است.

تبدیل دکارتی به قطبی. با توجه به شکل (۹)،  $x, y, r, \theta$  با روابط زیر به هم وابسته اند

$$r^2 = x^2 + y^2, \quad \tan \theta = \frac{y}{x} \quad (12)$$

این معادلات برای تبدیل مختصات دکارتی  $(x, y)$  به مختصات قطبی  $(r, \theta)$  مورد استفاده قرار می گیرند.

مثال ۱۳. مختصات دکارتی  $(-1, 1)$  را به مختصات قطبی نقطه تبدیل کنید.

حل. با  $x=-1$ ،  $y=1$  از معادلات (۱۲) داریم

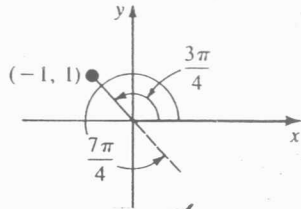
$$r^2 = 2 \quad \text{و} \quad \tan \theta = -1$$

حال  $r = \pm \sqrt{2}$  در دو امکان از حیطه امکان است که زاویه ها در  $\tan \theta = -1$  برابر باشند

یعنی برای  $\frac{3\pi}{4}$ ،  $\frac{7\pi}{4}$  در مائش  $(\sqrt{2}, \frac{3\pi}{4})$  و  $(-\sqrt{2}, \frac{7\pi}{4})$  به دست می آید.

باید دقت کرد که  $(-\sqrt{2}, \frac{3\pi}{4})$  و  $(\sqrt{2}, \frac{7\pi}{4})$  مائش های قطبی  $(-1, 1)$  هستند، عبارت

دگر و همره زاویه  $\theta$  و همره  $r$  بی در (۱۲) برقرار است، این جواب ها باید با (۱۱) سازگار باشند. شکل (۱۰) را ببینید.



شکل ۱۰

با توجه به معادلات داده شده در (۱۱)، یک معادله دکارتی را می توان به صورت یک معادله قطبی  $r=f(\theta)$  شرح داد.

مثال ۱۴. معادله قطبی که در این همان شعاع را بره  $x^2 + y^2 = 4y$  باشد را به دست آورید.

حل. با استفاده از  $r = r \cos \theta$  و  $y = r \sin \theta$

$$r^2 (\cos^2 \theta + \sin^2 \theta) = 4r \sin \theta$$

$$r(r - 4 \sin \theta) = 0$$

یعنی  $r=0$  یا  $r=4 \sin \theta$ ، چون  $r=0$  تنها قطب را نشان می دهد، پس معادله قطبی را به صورت

$$r = 4 \sin \theta \quad \text{تواند برود}$$

مثال ۱۵. معادله قطبی را بیابید که شعاع آن، شعاع سهمی  $x^2 = 8(2-y)$  باشد.

$$r^2 \cos^2 \theta = 8(2 - r \sin \theta) \quad \text{حل}$$

$$r^2 (1 - \sin^2 \theta) = 16 - 8r \sin \theta$$

$$r^2 = r^2 \sin^2 \theta - 8r \sin \theta + 16$$

$$r^2 = (r \sin \theta - 4)^2$$

$$r = \pm (r \sin \theta - 4)$$

از حل برای  $r$  داریم

$$r = \frac{4}{1 + \sin^2 \theta} \quad \vee \quad r = \frac{-4}{1 - \sin \theta} \quad (۱۳)$$



چون با جابجایی  $(-r, \theta + \pi)$  بجای  $(r, \theta)$  در معادله دوم از (۱۲) به معادله اول می رسم. پس می توان گفت که معادله قطبی سه می به صورت  $r = \frac{4}{1 + \sin \theta}$  است.

مثال ۱۶. معادله دکارتی را بیابید که شعور آن همان شعور معادله قطبی  $r^2 = 9 \cos 2\theta$  باشد.

حل. ابتدا از اتحاد مثلثاتی برای کسینوس زاویه دو برابر استفاده می کنیم

$$r^2 = 9(\cos^2 \theta - \sin^2 \theta)$$

حال از  $r^2 = x^2 + y^2$  و  $\cos \theta = \frac{x}{r}$ ،  $\sin \theta = \frac{y}{r}$  داریم

$$x^2 + y^2 = 9 \left( \frac{x^2}{x^2 + y^2} - \frac{y^2}{x^2 + y^2} \right)$$

$$(x^2 + y^2)^2 = 9(x^2 - y^2)$$

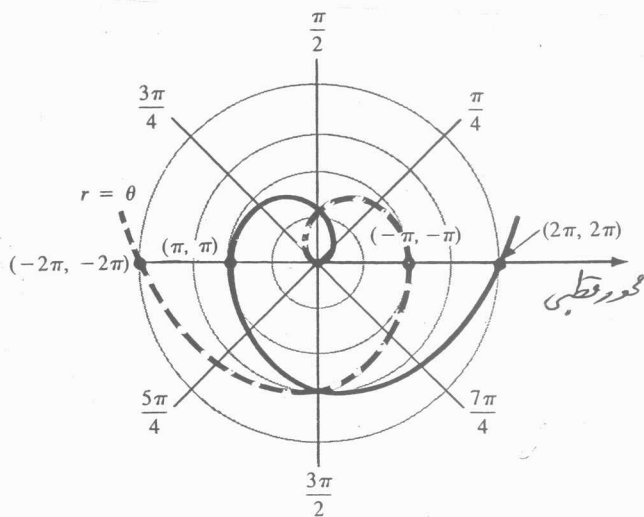
در بخش بعد می بینیم یک معادله در مختصات قطبی را توضیح می دهیم.

### ۱۰.۸ شعورهای معادلات قطبی

شعور یک معادله قطبی  $r = f(\theta)$  مجموعه نقاط  $P$  است که صدائق یکی از مجموعه مختصات در معادله صدق کند. بحث را متناهی با حالت دکارتی  $y = x$  شروع می کنیم.

مثال ۱۷. شعور  $r = \theta$  را رسم کنید.

حل. وقتی  $\theta > 0$  صعود می کند،  $r$  افزایش می یابد و نقاط  $(r, \theta)$  اطراف قطب در خلاف حرکت عقربه های ساعت، حرکت می کنند. در شکل (۱۷) قسمتی که با خط پررنگ کشیده شده است نشان دهنده این نقاط می باشد. در این منحنی قسمتی که با خط چین رسم شده، ششگانه  $\theta < 0$  است.

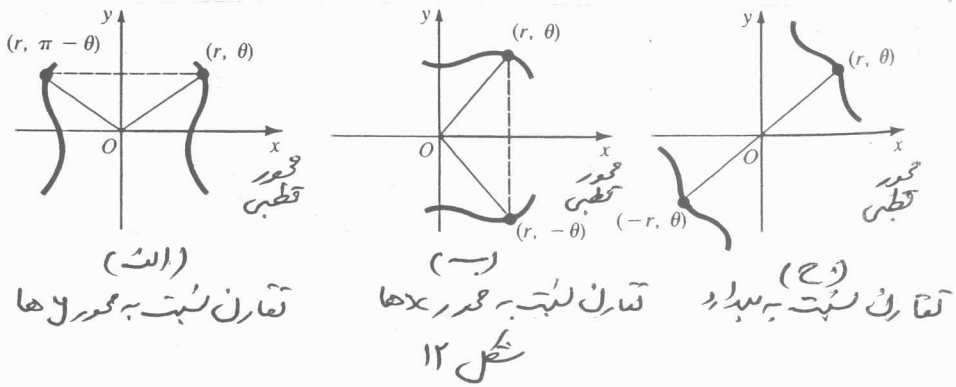


شکل ۱۱

بسیاری از نمودارها در مختصات قطبی دارای نام‌های خاصی هستند. نمودار در شکل (۱۷) حالت خاصی از  $r = a\theta$  است. نمودار این معادله را فنر اریتمیدسی نامند. برای یک رسم مناسب، تقارن اغلب کمک‌کننده برای نمودار یک معادله قطبی است.

تقارن ۱۱. برای رسم و شرح نمودارهای معادلات قطبی، همان گونه که در شکل (۱۲) دیده می‌شود، با قراردادن یک دستگاه دکارتی روی دستگاه مختصات قطبی تقارن را در نظر می‌گیریم. همان گونه که در شکل مشاهده می‌شود، یک نمودار قطبی می‌تواند دارای سه نوع تقارن باشد.

- الف) تقارن نسبت به محور  $\theta$  ها. اگر  $(r, \theta)$  نقطه‌ای از نمودار باشد، آن  $(r, \pi - \theta)$  نیز نقطه‌ای از نمودار باشد، گوئیم تقارن نسبت به محور  $\theta$  ها داریم.
  - ب) تقارن نسبت به محور  $x$  ها، اگر وقتی  $(r, \theta)$  نقطه‌ای روی نمودار است، آن  $(r, \theta)$  نیز نقطه‌ای روی نمودار باشد، گوئیم تقارن نسبت به محور  $x$  ها داریم.
  - ج) تقارن نسبت به مبدأ. اگر وقتی  $(r, \theta)$  نقطه‌ای روی نمودار است، آن  $(-r, \theta)$  نیز نقطه‌ای روی نمودار باشد، گوئیم نمودار نسبت به مبدأ متقارن است.
- در شکل (۱۲) دستگاه مختصات قطبی بزرگ دستگاه مختصات دکارتی قرار داده شده



نمایند برای نمودار یک معادله قطبی متعارف نسبت به

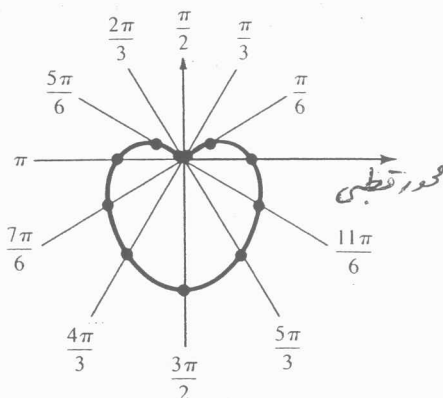
- (الف) محور y ها است هرگاه  $\theta$  را با  $\pi - \theta$  عوض کنیم معادله تغییری نکند.
- (ب) محور x ها است هرگاه  $\theta$  را با  $-\theta$  عوض کنیم معادله تغییری نکند.
- (ج) مبدأ را است هرگاه  $r$  را با  $-r$  عوض کنیم معادله تغییری نکند.

مثال ۱۸. چون  $\sin(\pi - \theta) = \sin \theta$  پس نمودار  $r = 3 - 3 \sin \theta$  نسبت به محور y ها متعارف است، با جایگزینی  $\theta$  بجای  $-\theta$  و  $r$  بجای  $-r$  معادله اولیه بر دست نمی آید. پس در مورد تقارن های دیگری نمودار نتیجه ای به دست نمی آید.

مثال ۱۹. نمودار  $r = 3 - 3 \sin \theta$  را رسم کنید.

حل: از مثال (۱۸) دیده می شود که نمودار نسبت به محور y ها متعارف است. با در نظر گرفتن برخی از نقاط خاص در جدول زیر نمودار در شکل (۱۳) رسم شده است.

$\theta$	0	$\pi/6$	$\pi/3$	$\pi/2$	$2\pi/3$	$5\pi/6$	$\pi$	$7\pi/6$	$4\pi/3$	$3\pi/2$	$5\pi/3$	$11\pi/6$	$2\pi$
$r$	3	$\frac{3}{2}$	0.4	0	0.4	$\frac{3}{2}$	3	$\frac{9}{2}$	5.6	6	5.6	$\frac{9}{2}$	3



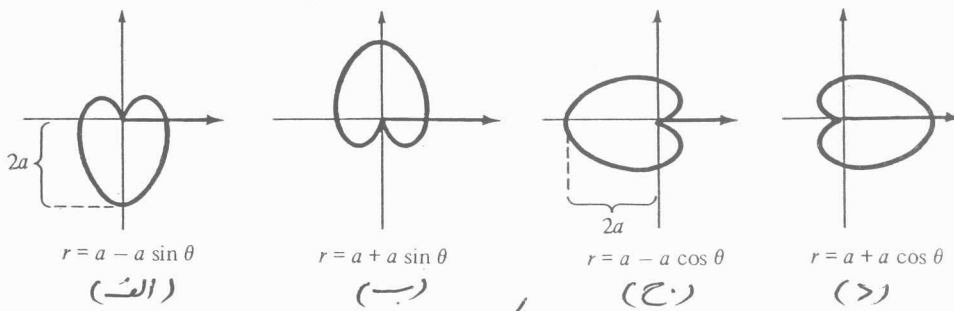
شکل ۱۳

کار دیوید ۱۲. معادله در مثال (۱۹) عضوی از یک خانواده از عبارات قطبی است که دارای شکل قلب می باشد و از مبدأ می گذرد. شعور هر معادله به صورت قطبی

$$r = a \pm a \sin \theta \quad \text{یا} \quad r = a \pm a \cos \theta$$

از یک کار دیوید میسیم. تنها تفاوت شعورهای این چهار معادله تقارن نسبت به محورهای آنها  $(r = a \pm a \sin \theta)$  یا تقارن نسبت به محور  $x$  ها  $(r = a \pm a \cos \theta)$  است. شکل

(۱۴) رسم کنید.

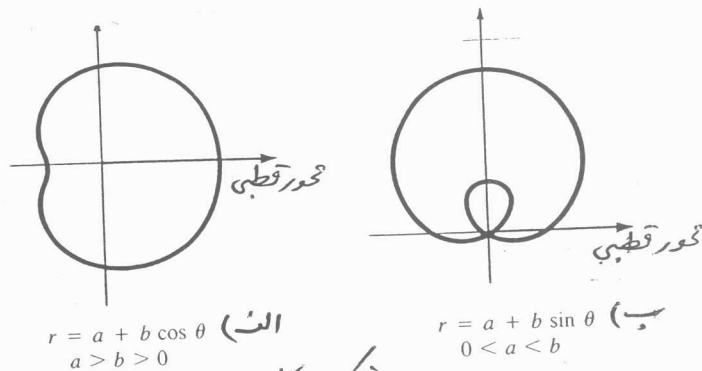


شکل ۱۴

لیکانتها ۱۳. کار دیویدها حالت خاصی از معنیهای قطبی به نام لیکانتها هستند

$$r = a \pm b \sin \theta, \quad \text{یا} \quad r = a \pm b \cos \theta$$

وقتی  $|a| > |b|$ ، لیکانت متشابه با کار دیوید است با این تفاوت که از مبدأ نمی گذرد. وقتی  $|a| > |b|$ ، لیکانت دارای یک حلقه داخلی است. معنیهای لیکانت در شکل (۱۵) نمایش داده شده اند.



شکل ۱۵

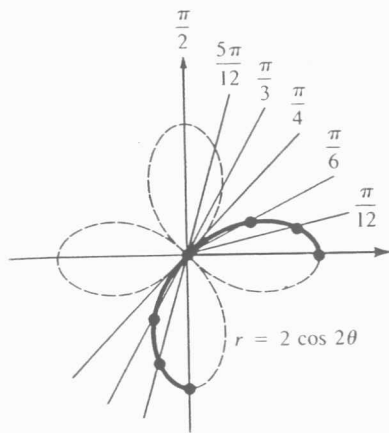
مثال ۲۰. شعور  $r = 2 \cos 2\theta$  را رسم کنید.

حل. همچون

$$\cos(-2\theta) = \cos 2\theta, \quad \cos 2(\pi - \theta) = \cos 2\theta$$

بین نمودار نسبت به محور x ها و محور y ها متقارن است. معادله دایره ای دوره  $\pi$  است. بین با توجه به انعکاس، تنها فاصله  $0 \leq \theta \leq \frac{\pi}{2}$  را در نظر می گیریم. داده معادله جدول زیر خلاصه شده و اند. نمودار حاصل را یک منحنی رُز با چهار برگ نامیم. شکل (۱۴)

$\theta$	0	$\pi/12$	$\pi/6$	$\pi/4$	$\pi/3$	$5\pi/12$	$\pi/2$
r	2	1.7	1	0	-1	-1.7	-2

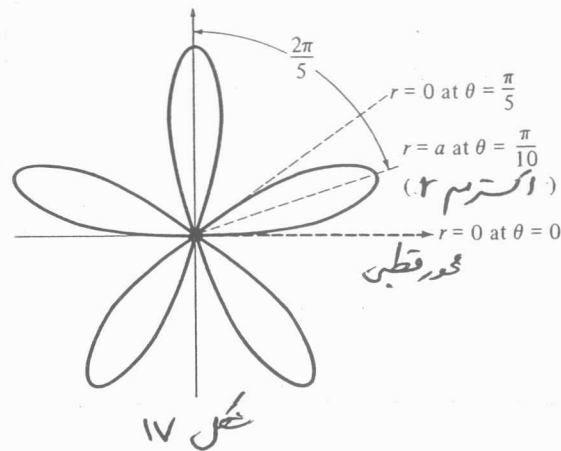


شکل ۱۴

منحنی های رُز  $n$  در حالت کلی، اگر  $n$  یک عدد صحیح مثبت باشد، نمودارهای

$$r = a \sin n\theta \quad \text{یا} \quad r = a \cos n\theta \quad n \geq 2$$

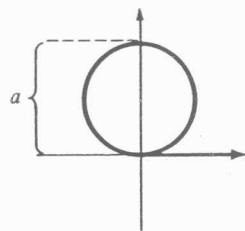
را منحنی های رُز نامیم. اگر  $n$  زوج باشد آن  $2n$  برگ و عدد دایره و اگر  $n$  فرد باشد تعداد حلقه ها یا برگ ها برابر  $n$  است. برای رسم یک منحنی رُز می توان با رسم یک برگ شروع کرد. برای شروع، زاویه  $\theta$  ای را می نامیم که برای آن  $r$  یک اکترم است. این خط مرکزی برگ را نمایش می دهد. سپس مقادیری از  $\theta$  را به دست می آوریم که منحنی به قطب می رسد ( $r=0$ ). برای تکمیل نمودار از این واقعیت که خطوط مرکزی برگها به فاصله  $\frac{2\pi}{n}$  از یکدیگرند ( $\frac{360}{n}$  درجه) تعداد برگ ها را رسم می کنیم. در شکل (۱۷) نمودار  $r = a \sin 5\theta$ ،  $a > 0$  رسم شده است. فضای بین برگ ها با خطوط مرکزی  $\frac{2\pi}{5}$  رادیان (یعنی  $72^\circ$ ) می باشد. نمودار دایره ای 5 برگ است.



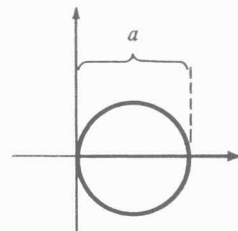
دایره‌ها ۱۵. نمودارهای  $r = a \sin n\theta$  یا  $r = a \cos n\theta$  برای حالت خاص  $n=1$  به صورت

$$r = a \sin \theta, \quad \text{یا} \quad r = a \cos \theta$$

دایره‌هایی گذرنده از مرکز با قطر  $2a$  و مراکز روی محور  $y$  ها و محور  $x$  ها به ترتیب هستند. شکل (۱۸) نمودارهای  $r = a \sin \theta$  و  $r = a \cos \theta$  در حالت  $a > 0$  را نمایش می‌دهند.



(الف)  $r = a \sin \theta, a > 0$



(ب)  $r = a \cos \theta, a > 0$

شیب مماس به یک نمودار قطبی ۱۶. شیب خط مماس به نمودار یک معادله قطبی شکل ۱۸

است  $r = f(\theta)$  مشتق  $\frac{dy}{dx}$  شیب خط مماس به نمودار در مختصات دکارتی  $\frac{dy}{dx}$

است بحال با فرض  $r = f(\theta)$ ,  $x = r \cos \theta$ ,  $y = r \sin \theta$ , در فرم پارامتری داریم

$$x = f(\theta) \cos \theta, \quad y = f(\theta) \sin \theta$$

$$\frac{dy}{dx} = \frac{\frac{dy}{d\theta}}{\frac{dx}{d\theta}} = \frac{f'(\theta) \sin \theta + f(\theta) \cos \theta}{f'(\theta) \cos \theta - f(\theta) \sin \theta}$$

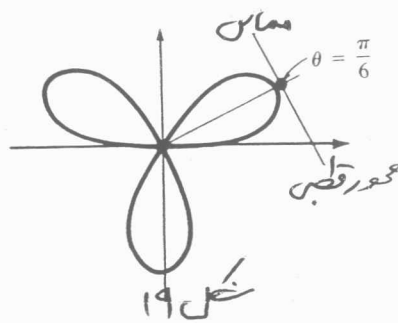
مثال ۲۱. شیب خط مماس به نمودار  $r = 4 \sin 3\theta$  در  $\theta = \frac{\pi}{6}$  را به دست آورید.

حل. از عبارات پارامتری داریم

$$x = 4 \sin 3\theta \cos \theta, \quad y = 4 \sin 3\theta \sin \theta$$

$$\begin{aligned} \frac{dy}{dx} &= \frac{\frac{dy}{d\theta}}{\frac{dx}{d\theta}} \\ &= \frac{4 \sin 3\theta \cos \theta + 12 \cos 3\theta \sin \theta}{-4 \sin 3\theta \sin \theta + 12 \cos 3\theta \cos \theta} \end{aligned}$$

مقدار معادله که یک رز سه برک است و خط مماس به آن در  $\theta = \frac{\pi}{6}$  در شکل (۱۹) نمایش داده شده است.



شکل ۲۲، تقاطعی روی شعاع  $r = 3 - 3 \sin \theta$  بیابید که خط مماس در آن نقطه افقی اند و تقاطعی را بیابید که خط مماس قائم هستند.

حل. خطوط مماس افقی در تقاطعی رخ می دهند که  $\frac{dy}{d\theta} = 0$ ،  $\frac{dx}{d\theta} \neq 0$  در حالی که مماس های قائم در تقاطعی رخ می دهند که  $\frac{dx}{d\theta} = 0$ ،  $\frac{dy}{d\theta} \neq 0$ . حال از عبارات پارامتری

$$x = (3 - 3 \sin \theta) \cos \theta, \quad y = (3 - 3 \sin \theta) \sin \theta$$

$$\begin{aligned} \frac{dx}{d\theta} &= (3 - 3 \sin \theta)(-\sin \theta) + \cos \theta (-3 \cos \theta) \\ &= -3 \sin \theta + 3 \sin^2 \theta - 3 \cos^2 \theta \\ &= -3 - 3 \sin \theta + 6 \sin^2 \theta \end{aligned}$$

$$= 3(2 \sin \theta + 1)(\sin \theta - 1)$$

$$\begin{aligned} \frac{dy}{d\theta} &= (3 - 3 \sin \theta) \cos \theta + \sin \theta (-3 \cos \theta) \\ &= 3 \cos \theta (1 - 2 \sin \theta) \end{aligned}$$

از این معادلات، دید می شود که

$$\frac{dx}{d\theta} \neq 0, \frac{dy}{d\theta} = 0 \quad \text{در } \theta = \frac{3\pi}{2}, \theta = \frac{5\pi}{6}, \theta = \frac{\pi}{6}$$

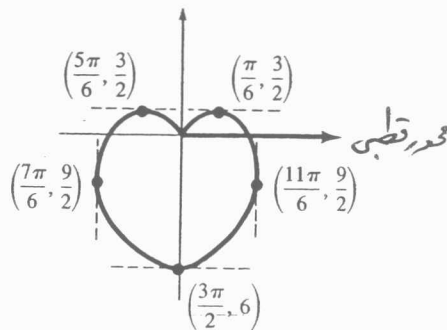
$$\frac{dx}{d\theta} = 0, \frac{dy}{d\theta} \neq 0 \quad \text{در } \theta = \frac{11\pi}{6}, \theta = \frac{7\pi}{6}$$

بنابراین

مماس‌های افقی در نقاط:  $(\frac{\pi}{6}, \frac{3}{2})$ ،  $(\frac{5\pi}{6}, \frac{3}{2})$ ،  $(\frac{3\pi}{2}, 6)$  رخ می دهند و

مماس‌های عمودی در نقاط  $(\frac{7\pi}{6}, \frac{9}{2})$ ،  $(\frac{11\pi}{6}, \frac{9}{2})$  رخ می دهند.

این نقاط همراه با خطوط مماس در شکل (۲۰) نمایش داده شده اند.



شکل ۲۰

توجه کنید که در مثال (۲۲) به ازای  $\theta = \frac{\pi}{2}$ ،  $\frac{dx}{d\theta} = 0$ ،  $\frac{dy}{d\theta} \neq 0$ ، بنابراین نقطه  $(0, \frac{\pi}{2})$  هیچ اطلاعاتی در مورد خط مماس ندارد.

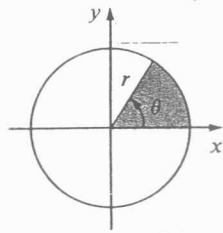
۵.۱۰ مساحت در مختصات قطبی و طول قوس

می دانیم که مساحت یک قطاع از دایره، نشان داده شده در شکل (۲۱) توسط

$$\text{مساحت} = \left(\frac{\theta}{2\pi}\right) (\pi r^2) = \frac{1}{2} r^2 \theta$$

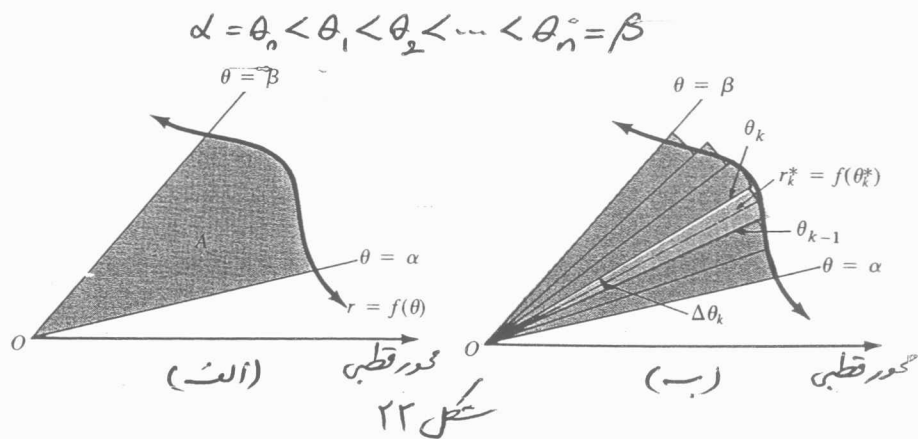
به دست می آید که در آن  $\theta$  بر حسب رادیان اندازه گیری شده است.





شکل ۲۱

ساحت ۱۷. فرض کنید  $r = f(\theta)$  یک تابع مثبتی پیوسته روی  $[\alpha, \beta]$  است که در آن  $0 \leq \alpha < \beta \leq 2\pi$ ، برای یافتن مساحت ناحیه محصور شده در شکل (۲۲-الف) به تعداد  $n$  شعاع‌های  $\theta = \alpha$  و  $\theta = \beta$  از افراز  $P$  حاصل  $[\alpha, \beta]$  شروع می‌کنیم



شکل ۲۲

اثر  $\theta_k^*$  عددی در  $k$  امین زیرفاصله  $[\theta_{k-1}, \theta_k]$  باشد، آن‌گاه مساحت قطعی از برابر به شعاع  $r_k = f(\theta_k^*)$  مشخص شده در شکل (۲۲-ب) برابر است با

$$\Delta A_k = \frac{1}{2} [f(\theta_k^*)]^2 \Delta \theta_k$$

که در آن  $\Delta \theta_k = \theta_k - \theta_{k-1}$  یک زاویه مرکزی است. جمع ریمان

$$\sum_{k=1}^n \frac{1}{2} [f(\theta_k^*)]^2 \Delta \theta_k \tag{۱۴}$$

یک تقریب برای  $A$  است.  $A$  را حد (۱۴) وقتی نرم افراز به صفر میل می‌کند، تعریف می‌کنیم.

پس

$$\begin{aligned} A &= \lim_{\|P\| \rightarrow 0} \sum_{k=1}^n \frac{1}{2} [f(\theta_k^*)]^2 \Delta \theta_k \\ &= \int_{\alpha}^{\beta} \frac{1}{2} [f(\theta)]^2 d\theta \end{aligned}$$

با به طر ساره تر

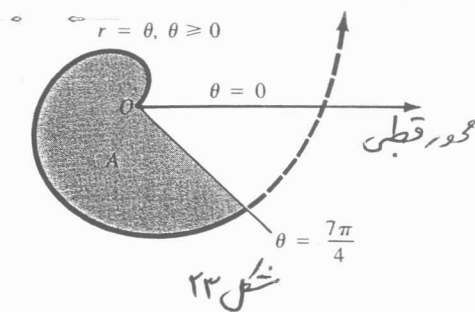
$$A = \frac{1}{2} \int_{\alpha}^{\beta} r^2 d\theta \quad (15)$$

شال ۲۳. مساحت ناحیه محصوره به فر  $r = \theta$  ،  $\theta > 0$  ، بین شعاع های  $\theta = 0$  و

$\theta = \frac{7\pi}{4}$  را به دست آورید.

حل. از شکل (۲۳) داریم

$$\begin{aligned} A &= \frac{1}{2} \int_0^{7\pi/4} \theta^2 d\theta \\ &= \frac{1}{2} \frac{\theta^3}{3} \Big|_0^{7\pi/4} = \frac{343}{384} \pi^3 \approx 27.70 \end{aligned}$$



شال ۲۴. مساحت ناحیه محصوره به دو رویه های کاردیوید  $r = 2 - 2\cos\theta$  و لسیان  $r = 2 + \cos\theta$

را به دست آورید.

حل. ناحیه مورد نظر در شکل (۲۴) نمایش داده شده است. ناحیه نشان می دهد که نیاز به

دو اشتغال داریم. معادلات زیر را به طور همزمان حل می کنیم

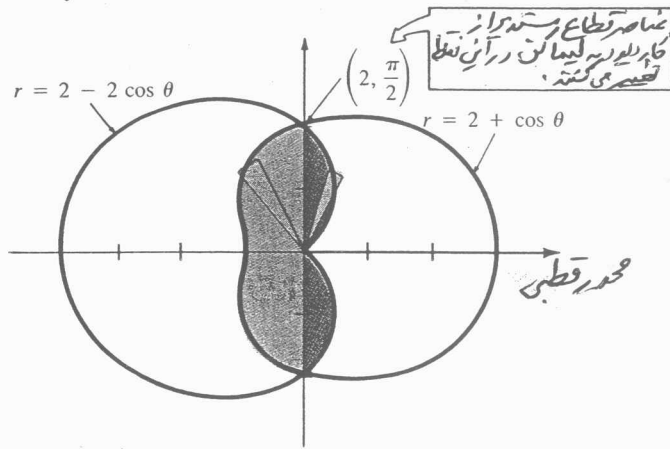
$$2 - 2\cos\theta = 2 + \cos\theta \quad \text{یا} \quad \cos\theta = 0$$

پس  $\theta = \frac{\pi}{2}$ . زیرا برای این نقطه  $(2, \frac{\pi}{2})$  یک نقطه تلاقی رو به کنی است. با توجه به تقارن داریم

$$\begin{aligned} A &= 2 \left\{ \frac{1}{2} \int_0^{\pi/2} (2 - 2\cos\theta)^2 d\theta + \frac{1}{2} \int_{\pi/2}^{\pi} (2 + \cos\theta)^2 d\theta \right\} \\ &= 4 \int_0^{\pi/2} (1 - 2\cos\theta + \cos^2\theta) d\theta + \int_{\pi/2}^{\pi} (4 + 4\cos\theta + \cos^2\theta) d\theta \\ &= 4 \int_0^{\pi/2} \left( 1 - 2\cos\theta + \frac{1 + \cos 2\theta}{2} \right) d\theta + \int_{\pi/2}^{\pi} \left( 4 + 4\cos\theta + \frac{1 + \cos 2\theta}{2} \right) d\theta \end{aligned}$$

$$= 4 \left[ \frac{3}{2} \theta - 2 \sin \theta + \frac{1}{4} \sin 2\theta \right]_{\pi/2}^{\pi} + \left[ \frac{9}{2} \theta + 4 \sin \theta + \frac{1}{4} \sin 2\theta \right]_{\pi/2}^{\pi}$$

$$= \frac{21}{4} \pi - 12 \approx 4.49$$

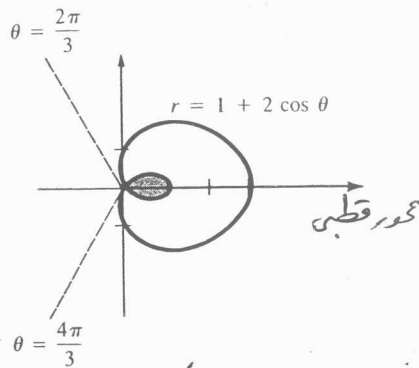


شکل ۲۴

سوال ۲۵. مساحت حلقه داخلی لیپاتین  $r = 1 + 2 \cos \theta$  را بدست آورید.  
 حل. همان نکته که در شکل (۲۵) دیده می‌شود، حلقه داخلی شش‌ضلعی است.  
 امت. اگر چه برای این مقادیر  $\theta$ ،  $r \leq 0$ ، از (۱۵) داریم  $r^2 > 0$  در نتیجه

$$A = \frac{1}{2} \int_{2\pi/3}^{4\pi/3} (1 + 2 \cos \theta)^2 d\theta$$

$$= \pi - \frac{3\sqrt{3}}{2} \approx 0.54$$



شکل ۲۵

مساحت محصوره رو بنویسید ۱۸. مساحت  $A$  ناحیه سایه‌خورده در شکل (۲۶) را بیابان  
 باکم کردن مساحت‌ها از یکدیگر بدست آورده. اگر  $f$  و  $g$  روی  $[\alpha, \beta]$  پیوسته بوده و  
 روی  $[\alpha, \beta]$ ،  $f(\theta) > g(\theta)$ ، آن‌گاه مساحت محصوره بنویسید  $r = f(\theta)$  و

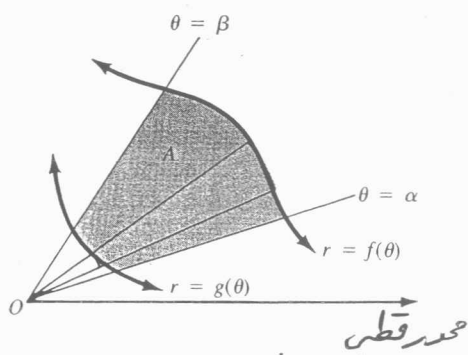
اگر  $r = g(\theta)$  ،  $\theta = \alpha$  و  $\theta = \beta$  برابر

$$A = \frac{1}{2} \int_{\alpha}^{\beta} [f(\theta)]^2 d\theta - \frac{1}{2} \int_{\alpha}^{\beta} [g(\theta)]^2 d\theta$$

است، که می‌توان آن را به صورت

$$A = \frac{1}{2} \int_{\alpha}^{\beta} ([f(\theta)]^2 - [g(\theta)]^2) d\theta \quad (۱۶)$$

نویسند.



شکل ۲۶

مثال ۲۶. مساحت ناحیه محصور در یک چهارم اول خارج از دایره  $r=1$  و داخل منحنی

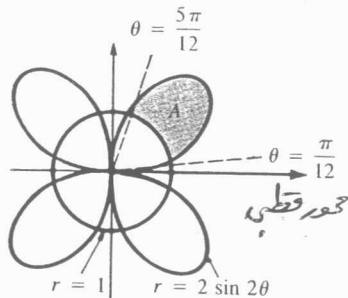
از  $r = 2 \sin 2\theta$  را به دست آورید.

حل. دو معادله را همزمان حل می‌کنیم

$$1 = 2 \sin 2\theta, \Rightarrow \sin 2\theta = \frac{1}{2}$$

پس  $2\theta = \frac{\pi}{6}$  و  $2\theta = \frac{5\pi}{6}$  ، بنابراین دو نقطه تلاقی در ناحیه اول  $(1, \frac{\pi}{12})$  و

$(1, \frac{5\pi}{12})$  است. مساحت مورد نظر در شکل (۲۷) نمایش داده شده است.



شکل ۲۷

$$\begin{aligned} A &= \frac{1}{2} \int_{\pi/12}^{5\pi/12} [(2 \sin 2\theta)^2 - 1^2] d\theta = \frac{1}{2} \int_{\pi/12}^{5\pi/12} [4 \sin^2 \theta - 1] d\theta \\ &= \frac{1}{2} \int_{\pi/12}^{5\pi/12} [4 \left( \frac{1 - \cos 4\theta}{2} \right) - 1] d\theta = \frac{1}{2} \left[ \theta - \frac{1}{2} \sin 4\theta \right]_{\pi/12}^{5\pi/12} \\ &= \frac{\pi}{6} + \frac{\sqrt{3}}{4} \approx 0.96 \end{aligned}$$

طول قوس برای منحنی‌های قطبی ۱۹. اگر  $r = f(\theta)$  معادله منحنی  $C$  در مختصات قطبی باشد آن گاه معادله پارامتریک  $C$  عبارتند از:

$$x = f(\theta) \cos \theta, \quad y = f(\theta) \sin \theta, \quad \alpha \leq \theta \leq \beta$$

حال اگر  $f$  را از مشتق بیرون بکشیم، آن گاه به روش مستقیم می‌توان فرمولی برای طول قوس در مختصات قطبی به دست آورد، چون

$$\frac{dx}{d\theta} = f'(\theta) \cos \theta - f(\theta) \sin \theta, \quad \frac{dy}{d\theta} = f'(\theta) \sin \theta + f(\theta) \cos \theta$$

پس

$$\left(\frac{dx}{d\theta}\right)^2 + \left(\frac{dy}{d\theta}\right)^2 = [f'(\theta)]^2 + [f(\theta)]^2 = \left(\frac{dr}{d\theta}\right)^2 + r^2$$

بنابراین

$$A = \int_{\alpha}^{\beta} \sqrt{\left(\frac{dr}{d\theta}\right)^2 + r^2} d\theta \quad (17)$$

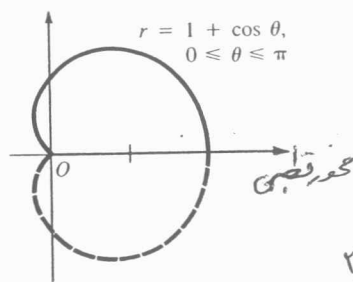
مثال ۲۷. طول کاردیوید  $r = 1 + \cos \theta$  برای  $0 \leq \theta \leq \pi$  را به دست آورید.  
حل. قسمتی از نمودار در شکل (۲۸) نمایش داده شده است، چون  $\frac{dr}{d\theta} = -\sin \theta$  پس

$$\left(\frac{dr}{d\theta}\right)^2 + r^2 = \sin^2 \theta + (1 + 2\cos \theta + \cos^2 \theta)$$

$$= 2 + 2\cos \theta$$

$$A = 2\sqrt{2} \int_0^{\pi} \sqrt{1 + \cos \theta} d\theta$$

$$= 2 \int_0^{\pi} \cos \frac{\theta}{2} d\theta = 4 \sin \frac{\theta}{2} \Big|_0^{\pi} = 4$$



شکل ۲۸

چرا در این مثال طول کامل کاردیوید ( $0 \leq \theta \leq 2\pi$ ) برابر  $A = 2 \int_0^{2\pi} \cos \frac{\theta}{2} d\theta$  است؟